



وزارة التربية
إدارة الشؤون التعليمية
مراقبة الامتحانات وشؤون الطلبة



نموذج الإجابة
المرحلة المتوسطة
الدور الثاني

المادة : الاجتماعيات

الصف : التاسع

العام الدراسي

2016 / 2017

العام الدراسي: ٢٠١٦-٢-٢٠١٧ م		وزارة التربية
الفصل الدراسي الثاني		الادارة العامة لمنطقة مبارك الكبير التعليمية
الزمن ساعة و ٤٥ دقيقة		التوجيه الفني للاجتماعيات

((اختبار نهاية الفصل الدراسي الثاني لمقرر (الكويت و العالم) للصف التاسع))

السؤال الأول: موضوعي يتكون من (أ - ب - ج) :

(أ) أكمل العبارات التالية بما يناسبها :

١- أكثر قارة من حيث عدد السكان تسمى آسيا ص ٧٩

٢- اكبر جزيرة في العالم هي استراليا ص ٨٧

٣- عقد مؤتمر الصلح عام ١٩١٩ في مدينة تسمى باريس ص ١١٩

٤- غزا النظام العراقي البائد دولة الكويت في عام ١٩٩٠ ص ١٤٦

(اختر الإجابة الصحيحة من بين البدائل التالية وضع تحتها خطا :

١- انضمت الكويت إلى هيئة الأمم المتحدة عام ص ١٥٠

(١٩٦٠ - ١٩٦١ - ١٩٦٢ - ١٩٦٣)

٢- مقر محكمة العدل الدولية في مدينة أوروبية تسمى ص ١٢٨

(لاهاي - جنيف - باريس - فينا)

٣- احدى موارد المال العام ص ١٠٧

(رأس المال - العمل - الإنتاج - القروض)


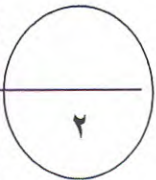
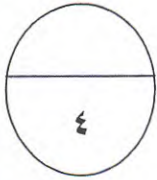
٤- تشكل المساحة الجبلية في اليابان حوالي ص ٩٢

(٦٣% - ٧٣% - ٨٣% - ٩٣%)

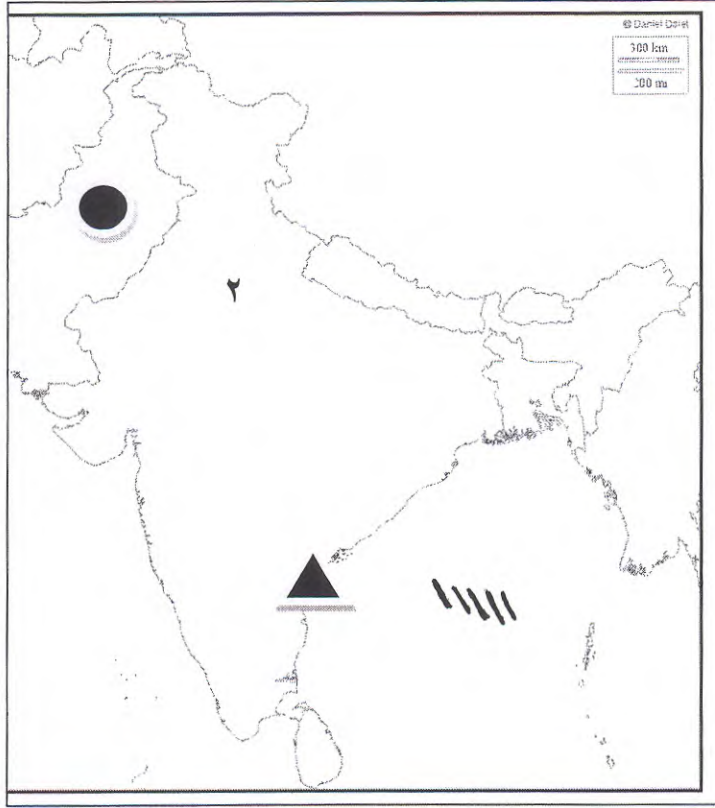
(ج) اجب عن المعادلة التالية :

١- المساواة + التكافل الاجتماعي + التعاون = (العدالة الاجتماعية) ص ١٠٩

٢- العمل + رأس المال + الموارد الطبيعية + التنظيم الاداري = (عوامل الانتاج) ص ١٠٧



٤



السؤال الثاني : موضوعي يتكون من (أ - ب) :

(أ) لاحظ خريطة الهند ثم اجب عما يلي : ص ٩١

١- الدولة التي تقع شمال الهند تحمل الرمز ●

تسمى باكستان

٢- عاصمة الهند تحمل الرقم (٢)

٣- ظلل خليج البنغال على الخريطة |||||

٤- مدينة صناعية تحمل الرمز ▲

تسمى مدراس



(ب) صنف أهم المظاهر التضاريسية في الجدول التالي :

(أربعة آلاف جزيرة - نهر الكنج - أضخم صخرة في العالم - جبال الهمالايا - حلقة المحيط الهادي - أكبر حاجز مرجاني)

استراليا	اليابان	الهند
١- أكبر حاجز مرجاني ص ٨٥ ٢- أضخم صخرة في العالم	١- أربعة آلاف جزيرة ص ٩٣ ٢- حلقة المحيط الهادي	١- نهر الكنج ص ٩٠ ٢- جبال الهمالايا

١٠

السؤال الثالث: يتكون من (أ - ب - ج)

(أ) من أكون :

أنا من بدأ
بالسياسة
التوسعية
ودعوت إلى قيام
ألمانيا الكبرى



هتلر (النازية) ص ١٢٢


سعت لإعادة
العظمة إلى
روما وإحياء
الإمبراطورية
الرومانية



موسوليني (الفاشية)

ص ١٢٢

سيطرت على
الحكم في
روسيا سنة
١٩١٧



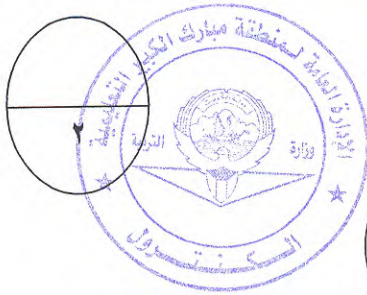
لينين (الشيوعية)

ص ١٢٢

(ج) اقرأ المعلومات التي أمامك ثم ضع عنوانا لها :

١- تقديم القروض و
الضمانات للدول النامية
تقديم المنح على سبيل
المعونة الفنية.

انشطة الصندوق
الكويتي للتنمية
الاقتصادية
ص ١٤٤



٢- الأمطار الحمضية

ثقب في طبقة الأوزون


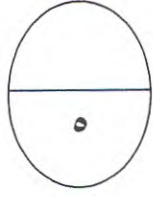
الظواهر المناخية
الناجمة عن التلوث
الهوائي ص ١٣٣



يتبع السؤال الثالث :

ج) اذكر المصطلح الدال على العبارات التالية:

- ١- (السيخة) عبارة عن ارض تبخر عنها الماء و بقيت عليها طبقة مالحة . ص ٨٥
- ٢- (النمو السكاني) مجموع معدل النمو الطبيعي و الغير طبيعي . ص ٨٣
- ٣- (المنظمات الدولية) هيئة يشترك فيها عدد من الدول للقيام بمجموعة من الاعمال ذات الاهمية المشتركة. ص ١٢٧
- ٤- (العولمة) سهولة الحركة و الانتقال بين دول العالم من خلال تذويب الحدود أو إزالة الحواجز بينها .. ص ١٠٩
- ٥- (الطاقة) القوى المحركة اللازمة لإدارة الآلات . ص ١٢٨



السؤال الرابع : مقالى يتكون من (أ - ب - ج - د) :

٣

(أ) اقرأ الفقرة التالية ثم اجب عن الأسئلة التالية :

(تحدث ظاهرة الاحتباس الحرارى بسبب ملوثات الهواء كالغازات والغبار ويعتبر غاز ثاني أكسيد الكربون هو الغاز المسبب لظاهرة الاحتباس الحرارى ومن آثارها ارتفاع درجة الحرارة و التصحر.

١- عرف ما تحته خط :



الاحتباس الحرارى: ارتفاع درجة حرارة الأرض عن معدلها الطبيعي . ص ١٣٣

٢- عدد اهم الآثار المناخية المترتبة على ظاهرة الاحتباس الحرارى. ص ١٣٤

١- ارتفاع درجة حرارة سطح الأرض مع ازدياد الملوثات الهواء

٢- حدوث الجفاف والتصحر . ٣- ذوبان الجليد فى المناطق القطبية و المرتفعات الجبلية مما يؤدي الى

لحدوث الفيضانات و ارتفاع نسبة مياه الأنهار و البحار و المحيطات .

(ب) دلل على صحة العبارات التالية :

٢

١- تعتبر دولة الكويت عضوا فعالا في هيئة الأمم المتحدة . ص ١٥٠

١- التزمت بشكل دائم بقرارات هيئة الامم المتحدة مما جعلها فى قائمة الشرف الخاصة .

٢- ساهمت الكويت مساهمة فعالة فى غالبية المنظمات مثل منظمة الصحة العالمية و منظمة الطيران

المدنى . ٣- انتخبت الكويت عضوا فى المجلس الاجتماعى و الاقتصادى فى هيئة الامم .

٤- فازت الكويت بعضوية مجلس الأمن الدولى . ٥- ساهمت الكويت فى الصندوق الذى انشاه الامين

العام للأمم المتحدة للقضاء على مرض الايدز . ٦- شاركت فى الاجتماع رفيع المستوى حول الثقافة و

السلام و الحوار بين الديانات و الثقافات .

٢- هناك شبه كبير فى مبادئ الأنظمة الدكتاتورية . ص ١٢٢

١- الزعامة المطلقة ٢- الحزب هو السلطة الوحيدة فى الدولة . ٣- التوسع فى اوربا . ٤- استخدام

وسائل بوليسية وإرهابية لفرض النظام الجديد.



ج) عرف المفاهيم التالية :

١- استثمار: توظيف الفائض من الاموال او النقود الناتج عن زيادة دخل الدولة . ص ١٠٨

٢- اتصال: عملية تبادل المعلومات بين الأفراد من خلال الرموز و السلوك المنقول بواسطة الرسائل الشفهية . ص ٩٥

د) علل ما يلي: (اذكر السبب)

١- زراعة الأرز في شمال جزيرة هوكايدو .

المناخ المعتدل البارد / تدفئة التربة/ استنباط سلالات من البذور ص ٩٣

٢- لا يستطيع الإنسان العيش في قارة انтарكتيكا.

لبرودة وقسوة المناخ . ص ٧٩-٨١

٣- قيام الحرب العالمية الثانية ص ١٢٤

١- قسوة شروط معاهدة فرساي على الدول المهزومة/ ٢- ظهور الحكومات الدكتاتورية في المانيا و

ايطاليا/ ٣- الازمة الاقتصادية ١٩٢٩ / ٤- سياسة هتلر التوسعية و اهمها الاستيلاء على ممر داننجز

البولندي عام ١٩٣٩ م.

٣

١٠



السؤال الخامس : مقالتي يتكون من (أ - ب - ج) :

(أ) في الصندوق الذي أمامك مصطلح ، عرف المصطلح ثم مثل له بمثال :

٢

زلازل مدمرة ص ٩٣

الحلقة النارية



مثال: تسونامي ص ٩٣

(ب) اكتب اثنين فيما يلي :

١- أنواع التعاون . ص ١١٠

١- التعاون الأسرى ٢- التعاون الدفاعي

٢- التعاون الجبري ٤- التعاون الاختياري

٢- عناصر الرأي العام . ص ١٠٦

١- وجود قضية أو مسألة تكون محل اهتمام الناس . ٢- التعبير أو الإفصاح عن الرأي أو وجهة النظر سواء بالكلمة المكتوبة أو المنطوقة

٣- وجود عدد من الأفراد لديهم اهتمام بالقضية أو وجود جمهور للرأي العام .

٣- أجهزة منظمة الأمم المتحدة. ص ١٢٨

١- مجلس الأمن ٢- الجمعية العامة ٣- الأمانة العامة ٤- مجلس الوصاية

٥- المجلس الاقتصادي والاجتماعي

٦- محكمة العدل الدولية

(ج) فرق بين كل مما يلي : ص ٨٦

٢

مناخ الصحراوي :

يمتاز بارتفاع في درجة الحرارة في الصيف و انخفاضها في الشتاء و قلة تساقط الامطار

مناخ التندرا:

يمتاز بالقسوة وتنخفض درجة الحرارة في الشتاء إلى ما دون الصفر

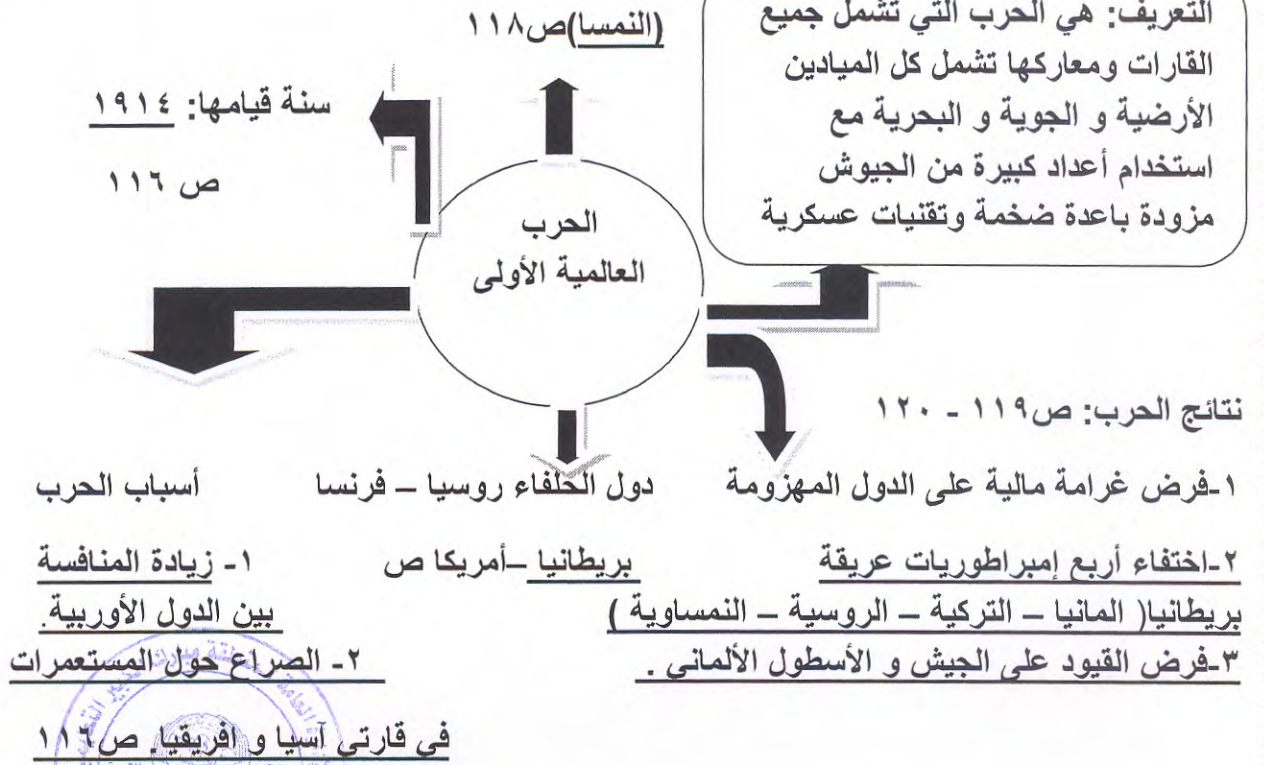
١٠

السؤال السادس مقالى يتكون من (أ - ب) :

(أ) أكمل الخريطة الذهنية التى أمامك :

٦

دول المحور: الدولة العثمانية - ألمانيا



٤

(ب) انظر إلى الصور التي أمامك ثم اجب عما يلي :



١- علة: يعد النفط و الغاز الطبيعي مادة استراتيجية مهمة في عصرنا الحالي .

١- توفرها بكميات كبيرة في مناطق محددة. ص ١٣٠


٢- سهولة نقلها وتخزينها . ٣- يعتبران مادتان هامة وقت السلم والحرب.

٢- اكتب نقطتين حول : أهم الأنشطة الاقتصادية في قارة استراليا . ص ٨٧

١- تشتهر استراليا على مستوى العالم فى إنتاج الصوف . ٢- تشتهر بإنتاج

المحاصيل الزراعية (القمح - الأرز - الفواكه والخضروات) ٣- لديها أكبر مساحة

للصيد البحرى . ٤- تعتبر من الدول الرائدة فى مجال التكنولوجيا والصناعة . ٥- ومن



القطاعات الآخذة فى النمو القطاع السياحى حيث يزورها كل عام أربعة ملايين زائر من أنحاء العالم

١٠